

令和3年度 社会学類編入学試験

【経済学】

専門科目問題冊子

(注意事項)

- ・問題冊子1部、解答用紙2枚が配られているか、確認してください。
- ・これは、経済学主専攻の試験問題です。あらかじめ届け出ている主専攻と合致しているか、確認してください。
- ・すべての解答用紙の所定欄に、学群、学類、氏名、受験番号を記入してください。これらが正しく記入されていない答案は、採点できないことがあります。
- ・経済学の専門科目の問題冊子は、表紙を除いて2ページあり、問題[A]と問題[B]によって構成されています。問題[A]と問題[B]のすべての設問に解答してください。
- ・問題[A]と問題[B]のそれぞれについて解答用紙を1枚使用してください。解答の文頭には、設問番号を必ず記入してください。問題[A][問1]、問題[B]のように記入してください。設問番号が明記されていない場合、採点されないことがあります。
- ・解答欄が足りない場合には、解答用紙の裏面を利用してください。ただし、その場合には、解答用紙の表の最終行に「裏面に続く」旨記入してください。

問題 [A]

[問 1] ある個人の第 1 財・第 2 財の消費に対する効用関数が

$$u(x_1, x_2) = x_1^{\frac{3}{7}} x_2^{\frac{4}{7}}$$

で与えられている。第 1 財・第 2 財の価格がそれぞれ 4, 2 であるとする。この個人は当初、第 1 財を 60 単位、第 2 財を 20 単位保有しており、これらを市場で自由に売却・購入することができる。

- (1) この個人の予算制約式を示しなさい。
- (2) 効用を最大化するためには、第 1 財・第 2 財をそれぞれ何単位売却あるいは購入すればよいか答えなさい。

[問 2] 10 人の個人から成る社会での同時手番ゲームを考える。この社会で、ある公共財を供給するために、各個人には、個人間で等しい一定金額を「寄付する」もしくは「寄付しない」という二つの選択肢がある。この公共財が供給される必要十分条件は、4 人以上が「寄付する」を選択することである。各個人は、このゲームの結果について、次の選好順位を持っている。

- (1 位) 公共財が供給され、自分自身は「寄付しない」を選ぶ。
- (2 位) 公共財が供給され、自分自身は「寄付する」を選ぶ。
- (3 位) 公共財が供給されず、自分自身は「寄付しない」を選ぶ。
- (4 位) 公共財が供給されず、自分自身は「寄付する」を選ぶ。

このゲームの純粋戦略ナッシュ均衡をすべて求めなさい。

[問 3] 拡張的金融政策がマクロ経済に及ぼす影響について、IS-LM モデルおよび総需要・総供給モデルの図を描いて論じなさい。

問題[B] 以下の問題文を読み、問いに答えなさい。



出展：日本経済新聞 2020年9月10日 朝刊 1ページ 「パクスなき世界 4」
注：原文(縦書き)を横書きに変更。出題の関係上、原文を一部省略した箇所がある。

- [問1] ①について説明しなさい。
- [問2] ②について説明しなさい。
- [問3] ③に関して具体的に想定されるものを3つ指摘しなさい。

☆注意：問題は裏ページに続きます

[問4] これまでの株主第一主義の経営により設備投資と雇用が増大した理由について100字程度で説明しなさい。

[問5] 本文が指摘する(a)ステークホルダー資本主義と、(b)株主第一主義の資本主義との相違について、100字程度で説明しなさい。

[問6] 今日、(c)株主第一主義モデルから(d)ステークホルダー資本主義への転換が提起されるようになった理由について、100字程度で説明しなさい。

[問7] ④に関する新たな経済理論を提唱した経済学者と、その代表的な著書名(日本語で構わない)を、それぞれ指摘しなさい。

令和3年度 社会学類編入学試験


【経済学】

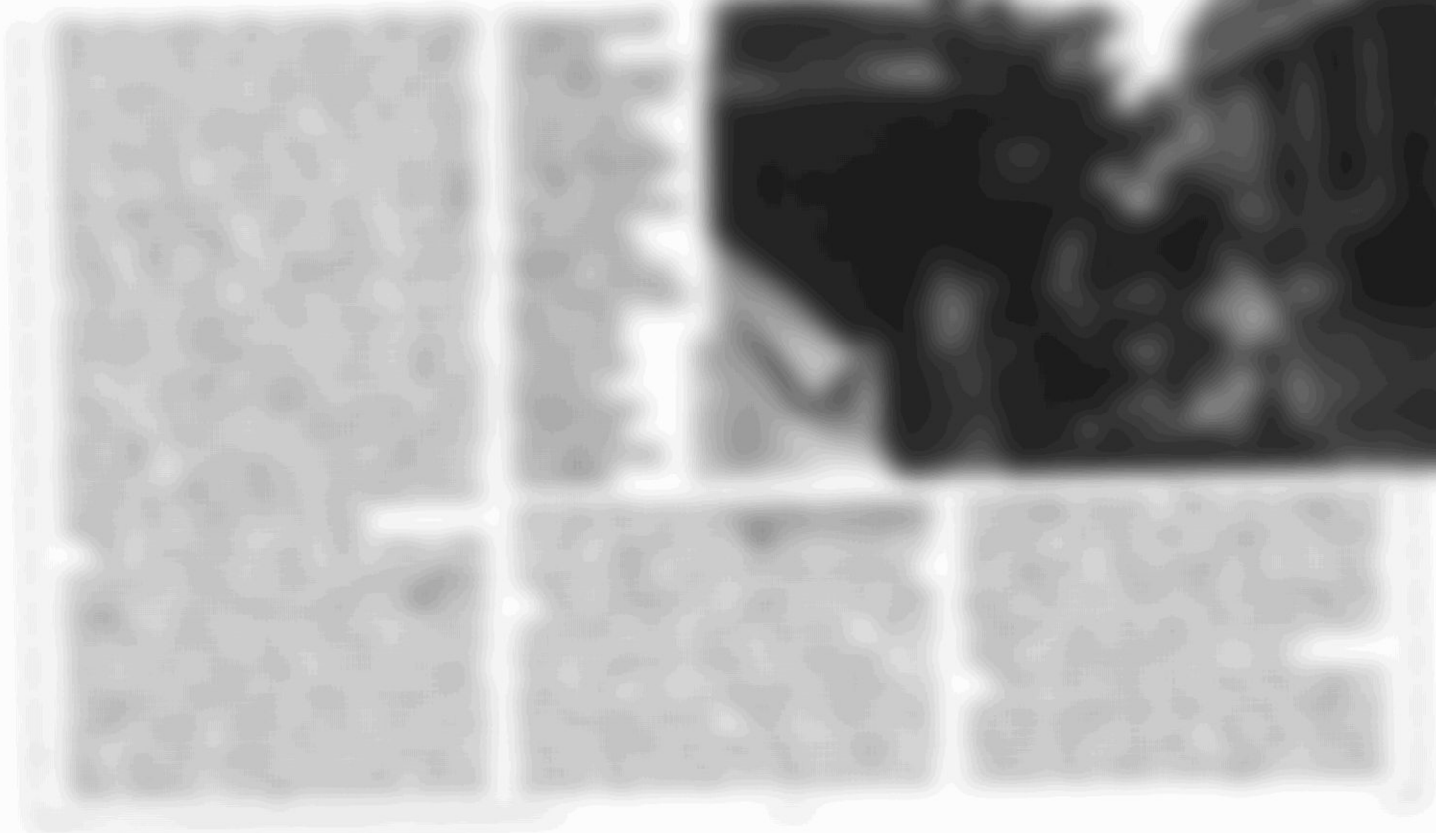
外国語（英語）問題冊子


(注意事項)

- ・問題冊子1部、解答用紙2枚が配られているか、確認してください。
- ・これは、**経済学主専攻**の試験問題です。あらかじめ届け出ている主専攻と合致しているか、確認してください。
- ・すべての解答用紙の所定欄に、学群、学類、氏名、受験番号を記入してください。これらが正しく記入されていない答案は、採点できないことがあります。
- ・経済学の外国語（英語）の問題冊子は、表紙を除いて4ページあり、「問題1」～「問題6」によって構成されています。すべての設問に解答してください。
- ・解答の文頭には、「問題1」などの設問の番号を必ず記入してください。設問番号が明記されていない場合、採点されないことがあります。
- ・解答用紙を2枚とも使用する場合は、何枚目かが明確にわかるように、文頭に1枚目、2枚目の別を記入してください。
- ・解答用紙を2枚使用しても解答欄が足りない場合には、2枚目の裏面を利用してください。ただし、その場合には、解答用紙の表の最終行に「裏面に続く」旨記入してください。

問題文を読んで、以下の問題に解答せよ。







“Slavery’s Southern Legacy” by Sophia Nguyen, *Harvard magazine* May-June 2018
(<https://harvardmagazine.com/2018/05/slavery-in-the-south> アクセス日:2020年11月17日)

問題 1. 本文中で言及される Greenwood と Asheville の歴史的・地理的特徴はどのようなものか説明せよ。

問題 2. 下線部①が示す “Black Codes” が導入された理由を説明せよ。

問題 3. 下線部②が示す these sentiments の内容を説明せよ。

問題 4. 下線部③が示す the disparities の内容を説明せよ。

問題 5. 下線部④が示す persistence literature とはどのような研究潮流なのかを説明せよ。

問題 6. この記事は *Deep roots* という本の書評である。著者らが *Deep roots* というタイトルで表現したかったことは何かを説明せよ (90 字程度)。